

LES FLEUVES - LES RIVIÈRES

Tu relies comme il convient :

.. est la longueur de .. et .. traverse ..

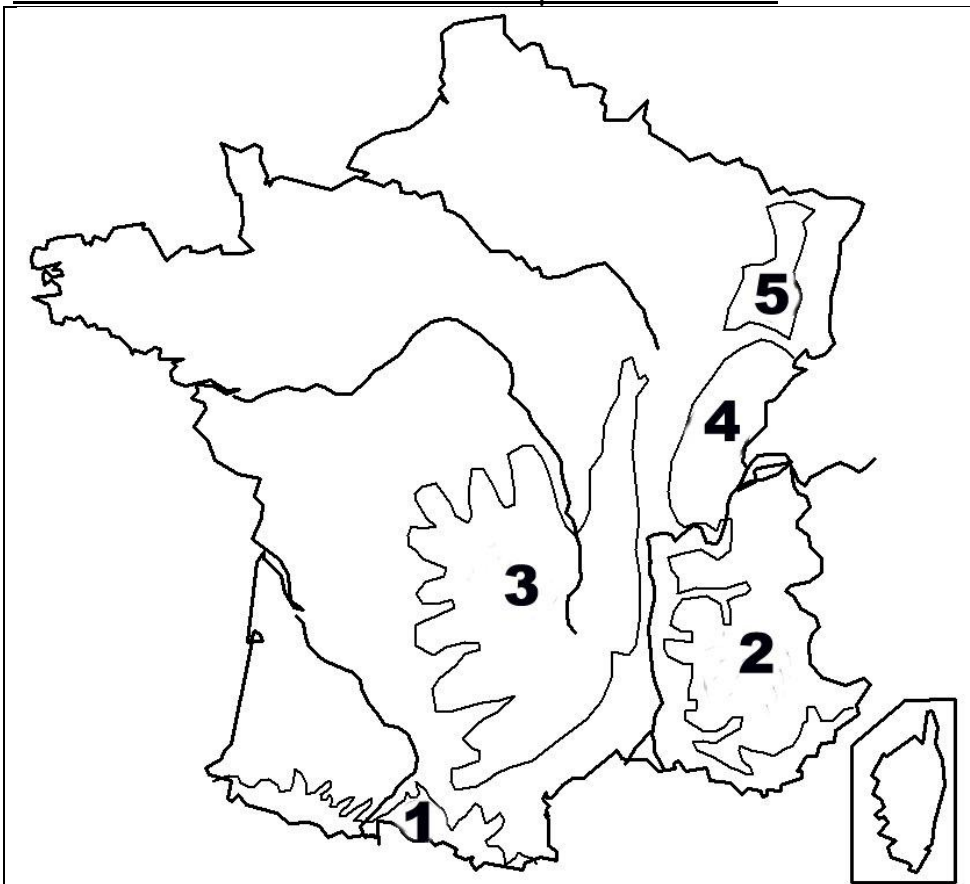
- | | | | |
|-----------|-----------|-----------|------------|
| 1010 km • | • Seine | Seine • | • Bordeaux |
| 776 km • | • Loire | Loire • | • Paris |
| 812 km • | • Garonne | Garonne • | • Lyon |
| 650 km • | • Rhône | Rhône • | • Nantes |

Dans quelle mer ou quel océan se jettent-ils ?

- La Seine : • La Loire :
- La Garonne : • Le Rhône :

LE RELIEF : LES MONTAGNES

Situe les massifs de la carte : Complète le tableau.



	Massif Central
	Alpes
	Pyrénées
	Vosges
	Jura

Tu relies comme il convient:

Pyrénées •	• Crêt de la Neige •	• 3 404 m
Alpes •	• Pic d'Aneto •	• 1 723 m
Jura •	• Mont Blanc •	• 1 426 m
Massif Central •	• Ballon de Guebwiller •	• 4 807 m
Vosges •	• Puy de Sancy •	• 1 889 m

Tu complètes avec *sud-est* et *nord-ouest* :

- La France des montagnes se trouve au
- La France des plaines se trouve au

Nom, prénom

date

Les villes françaises

1) Ecris au bon endroit : *centre-ville* ou *quartier plus récent*



2) remplis le tableau avec les mots suivants : *mairie, supermarchés, églises, maisons anciennes et serrées, maisons récentes, monuments, aéroport, musées, petites boutiques, immeubles*

<u>centre-ville</u>	<u>quartiers plus récents ou banlieue</u>

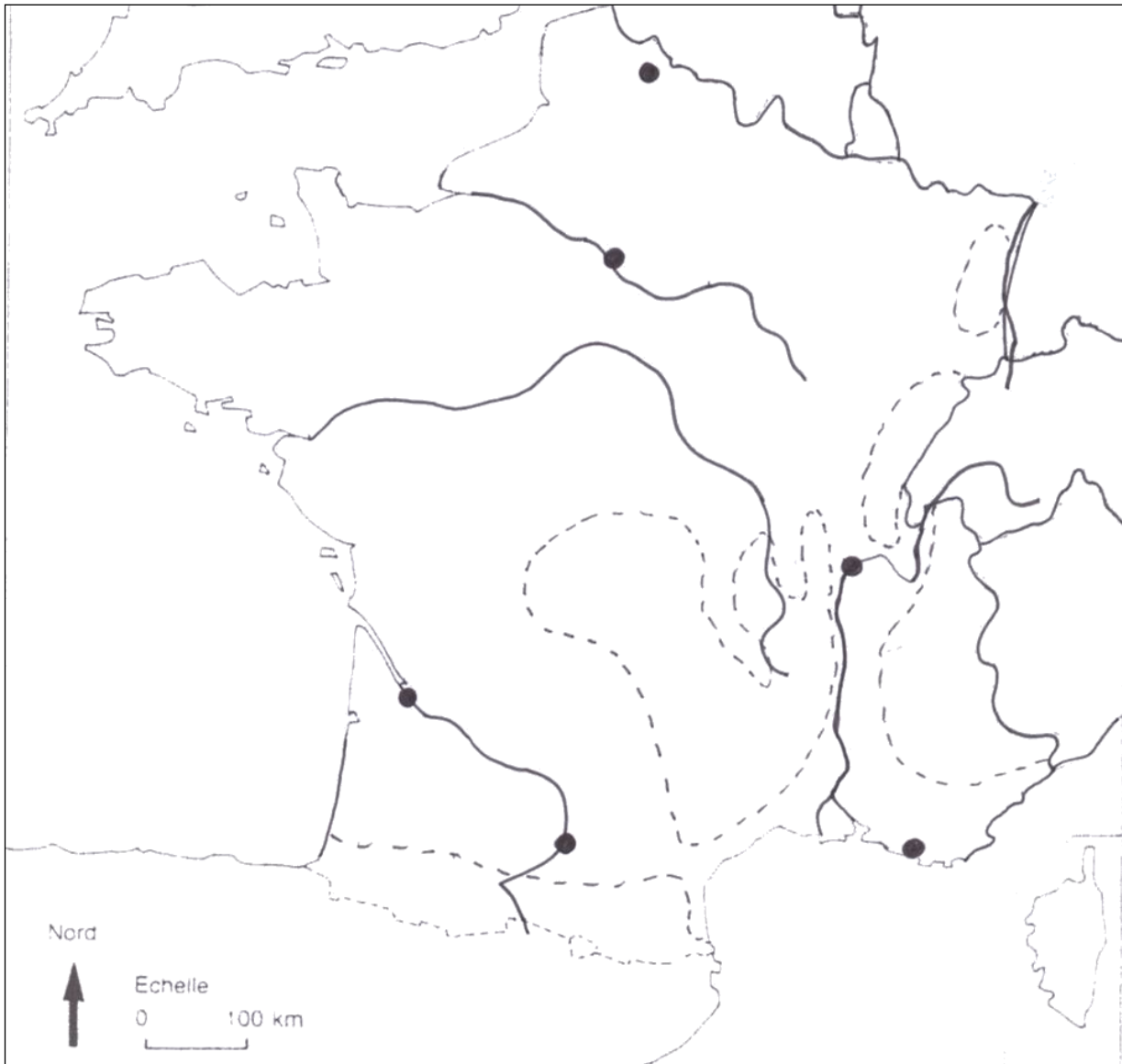
3) Complète le texte avec les mots suivants : *centre-ville* *quartiers plus récents* *banlieue* *ancienne*

Dans une ville, il y a toujours :

- un au milieu, qui est la partie la plus de la ville ;
- des, qui sont venus se rajouter autour après.

Si la ville est très grande, il peut y avoir autour de la ville une

4) Sur la carte de France (page suivante), écris les noms de grandes villes françaises.



Les régions françaises

1. Réponds aux questions suivantes.

Nom du chef-lieu de ma région :

Nombre de départements de ma région :

Nom des départements :

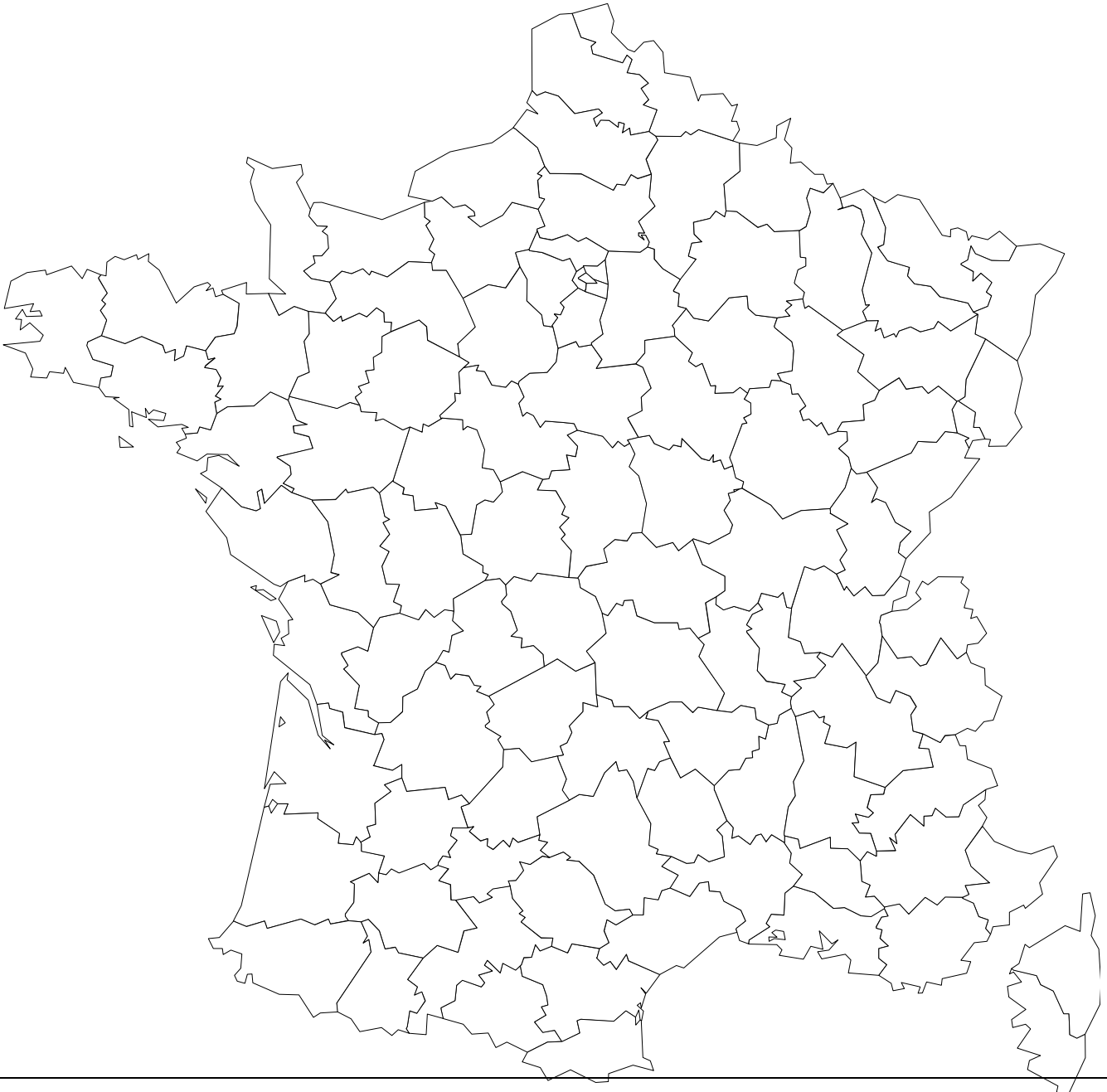
.....

Cite quelques grandes villes

2. De quoi s'occupe le Conseil Régional ?

.....

3. Sur la carte ci-dessous, colorie 5 régions et nomme-les ; indique leur capitale régionale.



REGIONS	CAPITALES REGIONALES

Prénom :

Evaluation de géographie
L'Union européenne

1. Complète la carte en inscrivant les noms des 27 pays de l'Union européenne :



2. Réponds aux questions suivantes en faisant des phrases courtes :

a) Quelle différence fais-tu entre « Europe » et « Union européenne »?

.....

b) Pourquoi certains pays se sont-ils réunis pour former ce que l'on appelle maintenant l'Union Européenne ? Combien sont-ils en 2008 ?

.....

c) Comment est le drapeau de l'Union européenne ?

.....

d) Tous les pays de l'Union ont-ils l'euro pour monnaie ?

.....

e) Quelles sont les institutions de l'Union Européenne ?

.....

.....

.....

.....

3. Pourquoi l'Union européenne a-t-elle été créée ?

Coche les affirmations qui te semblent correctes :

L'Union européenne a été créée pour qu'il n'y ait plus qu'une seule langue qui soit parlée dans toute l'Union européenne.

L'Union européenne a été créée pour faciliter le transport des marchandises d'un pays à un autre.

L'Union européenne a été créée pour qu'il n'y ait plus de frontières entre les pays qui en font partie.

L'Union européenne a été créée pour que chaque pays qui en fait partie se développe seul.

L'Union européenne a été créée pour que les personnes puissent choisir de vivre dans l'un ou l'autre des pays de l'Union.

